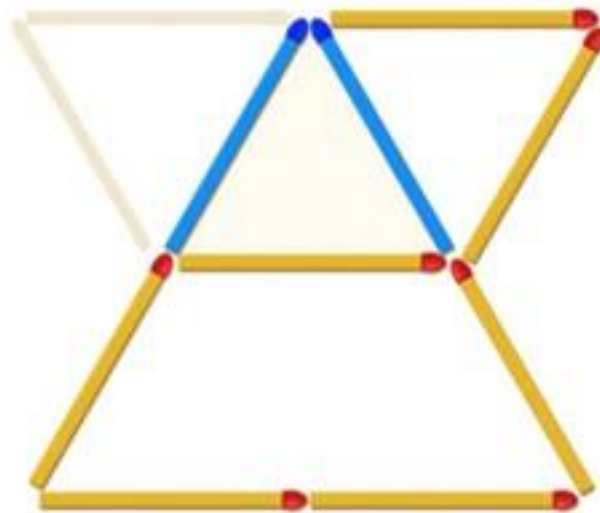
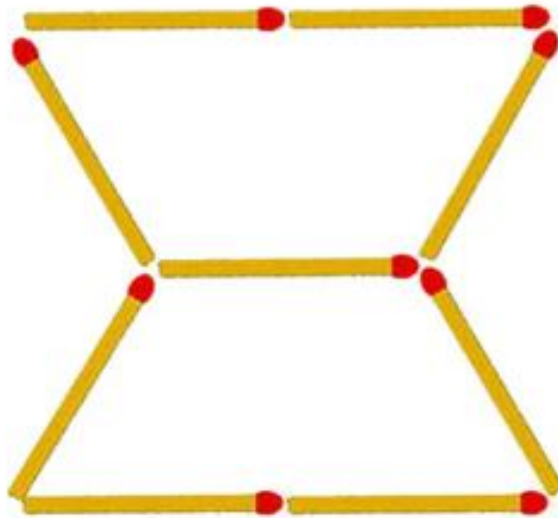


חידות גפרורים

חידה ראשונה: משולשים

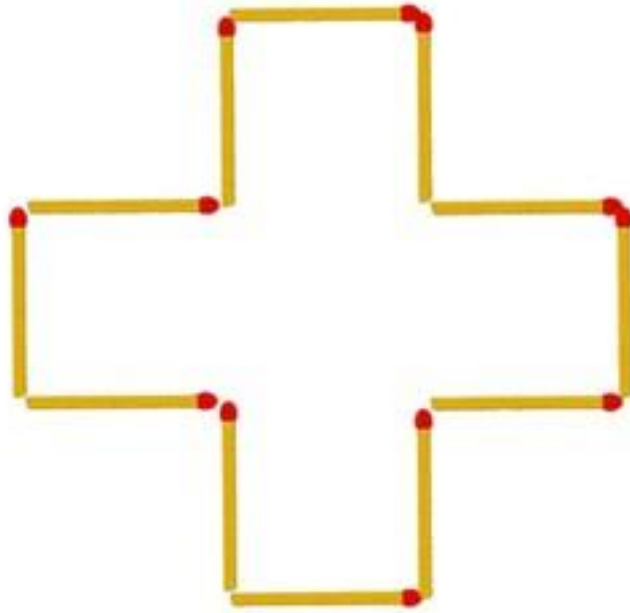
הזיזו 2 גפרורים כך שיהיה לכם 3 משולשים



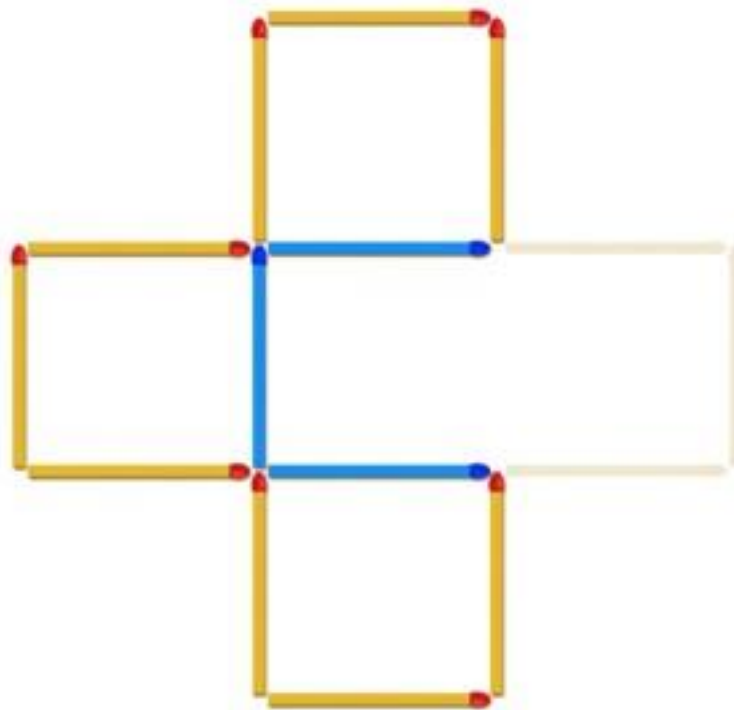
אם לא מצליחים ניתן לתת רמז לפני שמגלים את התשובה: 2
מהמשולשים הם אחד בתוך השני

חידה שנייה: מרובעים

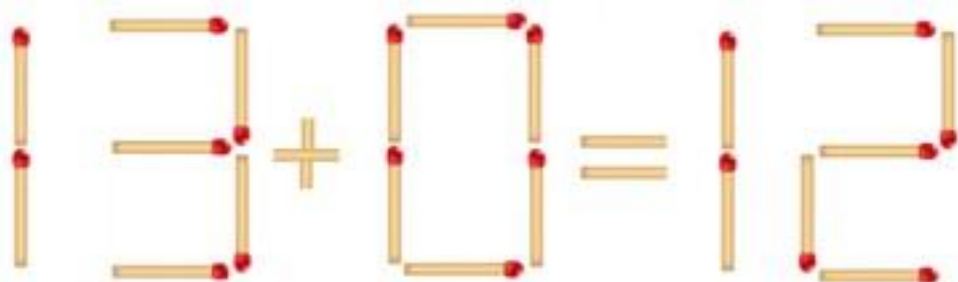
הזיזו 3 גפרורים כדי ליצור 3 ריבועים



אם לא מצליחים ניתן לתת רמז לפני שמגלים את התשובה:
הזיזו מצד ימין לאמצע



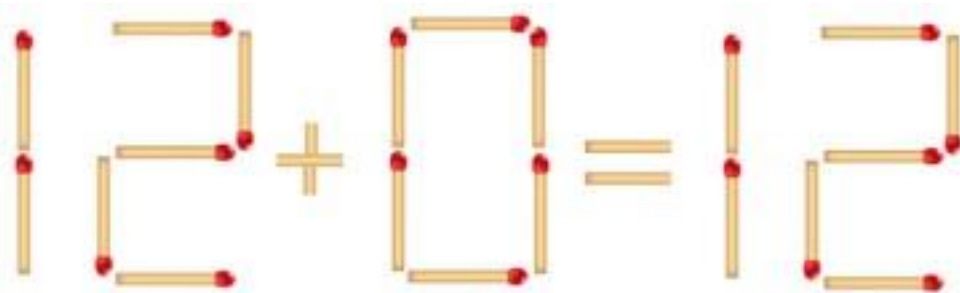
הזיזו גפרור אחד כדי שהתרגיל יהיה נכון


$$13 + 0 = 12$$

אם לא מצליחים ניתן לתת רמז לפני שמגלים את התשובה:

הזיזו מה - 12 או מה - 13.




$$12 + 0 = 12$$



